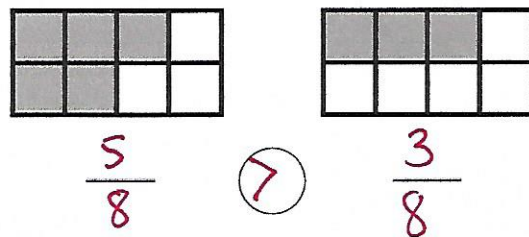
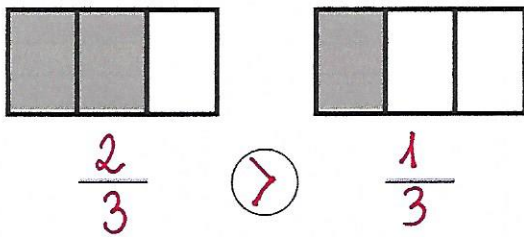
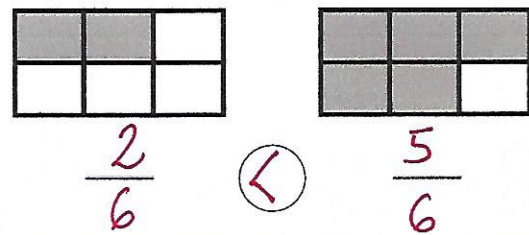
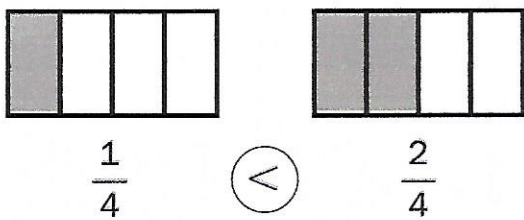


Nombre \_\_\_\_\_ Fecha \_\_\_\_\_

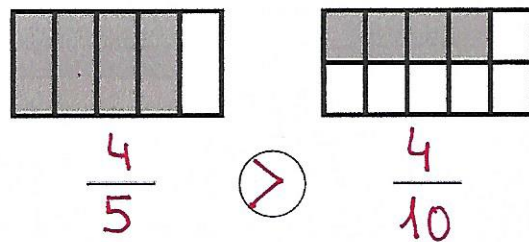
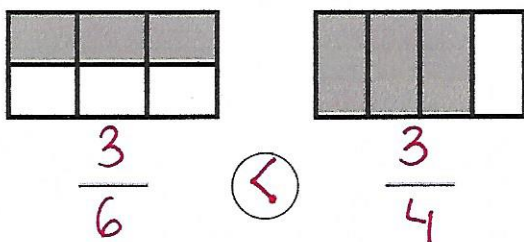
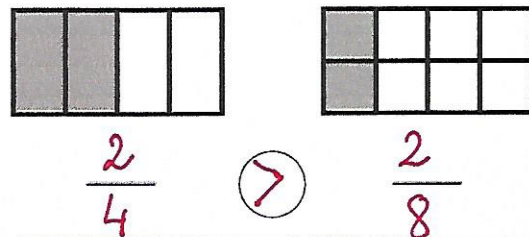
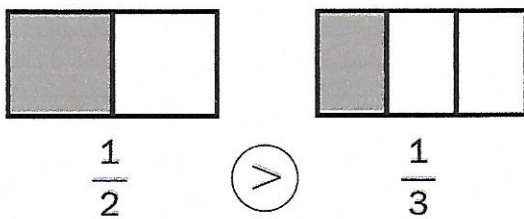
**Recuerda**

- De dos fracciones con igual denominador, es mayor la fracción que tiene el numerador mayor.
- De dos fracciones con igual numerador, es mayor la fracción que tiene el denominador menor.

**1. Primero, escribe la fracción que representa la parte coloreada de cada figura. Después, compara y completa.**



**2. Primero, escribe la fracción que representa la parte de cada color. Después, compara y completa.**



**3. Escribe el signo < o > según corresponda.**

$\frac{2}{4} > \frac{1}{4}$  |  $\frac{3}{5} > \frac{3}{6}$  |  $\frac{4}{2} < \frac{5}{2}$  |  $\frac{2}{3} > \frac{2}{7}$  |  $\frac{6}{9} > \frac{2}{9}$