





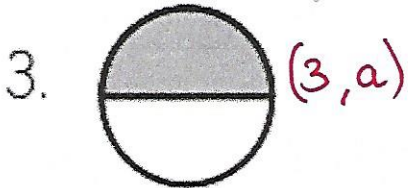



ACTIVIDAD: **FRACCIONES**

Nombre: .....

Fecha: .....

Une con líneas:



a.  $\frac{1}{2}$  un medio

b.  $\frac{1}{3}$  un tercio

c.  $\frac{1}{4}$  un cuarto

d.  $\frac{1}{5}$  un quinto

e.  $\frac{1}{6}$  un sexto

f.  $\frac{1}{8}$  un octavo

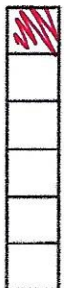
g.  $\frac{1}{10}$  un décimo

# FRACCIONES

Colorea la fracción que se te pide.



$\frac{5}{5}$  cinco quintos




$\frac{1}{6}$  un sexto




$\frac{4}{5}$  cuatro quintos



$\frac{4}{6}$  cuatro sextos



$\frac{1}{5}$  un quinto



$\frac{2}{6}$  dos sextos



$\frac{2}{5}$  dos quintos



$\frac{3}{6}$  tres sextos



$\frac{3}{5}$  tres quintos



$\frac{5}{6}$  cinco sextos

Observando el ejercicio anterior, escribe los signos >, < o = según corresponda.



$\frac{1}{5}$



$\frac{4}{6}$



$\frac{5}{6}$



$\frac{4}{5}$



$\frac{4}{5}$



$\frac{2}{6}$



Escribe las letras que corresponden a cada fracción y aparecerá un mensaje.



Comparación de fracciones



Bim. 2  
Sem. 16  
Ficha. 96

$\frac{5}{4}$  O  $\frac{3}{4}$  M  $\frac{1}{6}$  I  $\frac{2}{3}$  G  $\frac{4}{6}$  I  $\frac{1}{2}$  A  $\frac{2}{3}$  O  
 $\frac{4}{5}$  A  $\frac{3}{4}$  M  $\frac{1}{3}$  I  $\frac{4}{6}$  G  $\frac{3}{6}$  I  $\frac{4}{6}$  A  $\frac{1}{2}$  N  $\frac{2}{3}$  O  
 $\frac{1}{2}$  A  $\frac{1}{3}$  R  $\frac{3}{5}$  C  $\frac{2}{4}$  I  $\frac{1}{2}$  A  $\frac{2}{3}$  O  
 $\frac{1}{3}$  M  $\frac{1}{2}$  A  $\frac{1}{3}$  R  $\frac{3}{5}$  C  $\frac{2}{4}$  I  $\frac{1}{2}$  A  $\frac{2}{3}$  O

**T U**  
 $\frac{2}{5}$   $\frac{1}{5}$

S	T	R	A	U
I	N	G	O	Y
M	C			

